

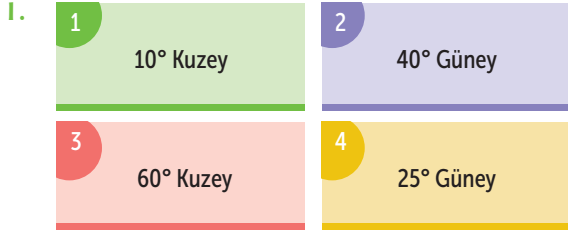
TEST 1 2

Ad / Soyad :

Sınıf / No :

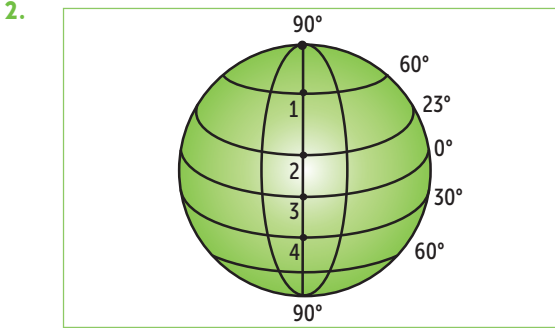
ÇÖZ BİTİR

COĞRAFİ KONUM VE ETKİLERİ - 2



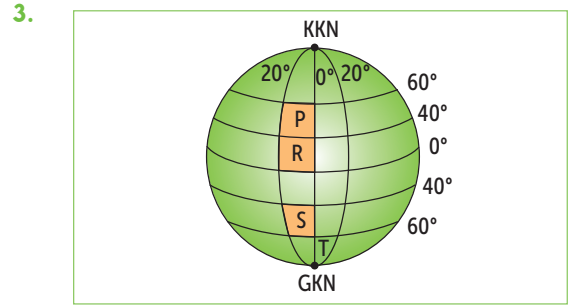
Yukarıda hangi numarayla gösterilen kutucukta verilen paralel dairesi üzerinde meridyenler arasındaki mesafe Ekvator'dakine daha yakındır?

- A) 1 B) 2 C) 3 D) 4



Yukarıdaki Dünya üzerinde işaretlenmiş olan merkezlerden aynı anda hareket eden, aynı hız ve yükseklikte uçan uçaklardan hangisi turunu daha önce tamamlar, neden?

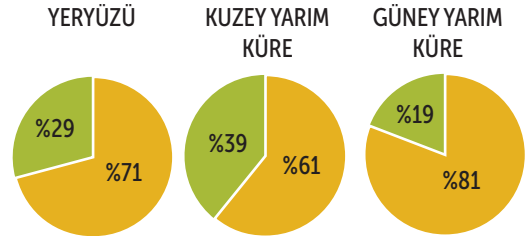
- A) 1 numaralı uçak tamamlar. Çünkü, kutuplara en yakın paralel dairesi üzerindedir.
B) 2 numaralı uçak tamamlar. Çünkü, güneş ışınlarının dik açıyla geldiği son noktada yer alır.
C) 3 numaralı uçak tamamlar. Çünkü, başlangıç paraleli üzerindedir.
D) 4 numaralı uçak tamamlar. Çünkü, Dünya'nın dönüş hızının en fazla olduğu paralel dairesi üzerinde yer alır.



Yukarıdaki şekil üzerinde gösterilen merkezlerden hangisi başlangıç meridyeninin doğusunda ve Güney Kutup Noktası'na en yakın konumda yer alır?

- A) P B) R C) S D) T

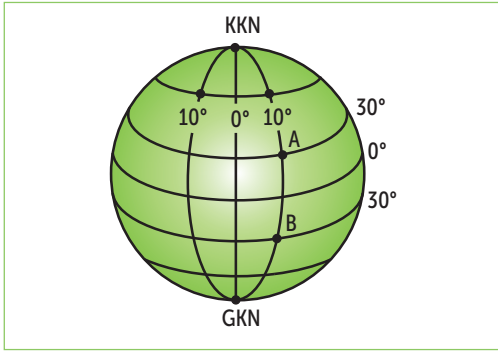
4. Aşağıdaki grafiklerde yeryüzündeki karaların ve denizlerin dağılışı oranları verilmiştir.



Grafiklerdeki bilgilerle göre, aşağıdakilerden hangisi söylenemez?

- A) Güney Yarım Küre'de karalar, denizlere göre daha az yer kaplamaktadır.
B) Kuzey Yarım Küre'de karalar, denizlerden daha fazla yer kaplamaktadır.
C) Yeryüzünde denizlerin kapladığı alan karalardan fazladır.
D) Kuzey ve Güney Yarım kürelerde denizlerin toplam oranı karaların toplamından fazladır.

5.

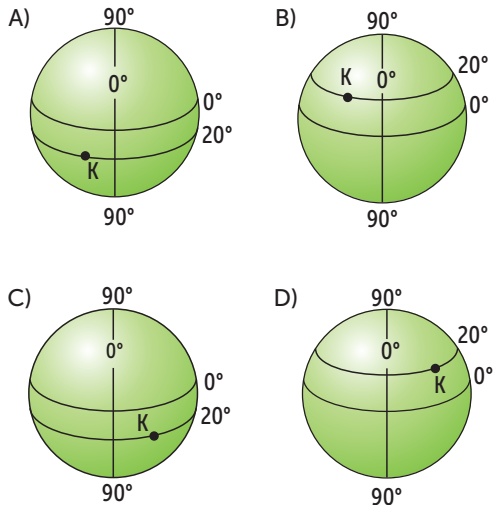


Buna göre, A ve B merkezlerinin;

- I. Yerel saatleri,
 - II. Başlangıç paraleline olan uzaklıkları,
 - III. Üzerinde buldukları paralel dereceleri
- özelliklerinden hangisinin ya da hangilerinin ortak olduğu söylenebilir?

- A) Yalnız I B) Yalnız II
C) I ve III D) I, II ve III

6. Güney Yarım Küre'de 20° paralelinde bulunan K merkezi, başlangıç meridyeninin doğusunda yer alır. Aşağıdaki Dünya şekli üzerinde gösterilen merkezlerden hangisinin matematik konumu yukarıdaki gibi ifade edilebilir?



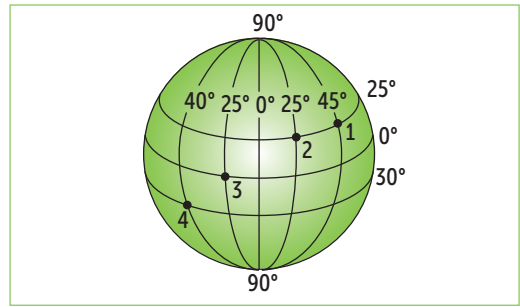
7.

Üç tarafı denizlerle çevrili olan Anadolu, Avrupa ile Asya kıtaları arasında köprü konumundadır. Bu özelliğinden dolayı Anadolu tarih boyunca göç dalgalarına yol olmuş ve istilalara uğramıştır. Ayrıca uygun iklimi ve verimli toprakları eski çağlardan beri Anadolu'yu önemli yerleşim merkezlerinden biri hâline getirmiştir. Buna göre, Anadolu'nun;

- I. İklim koşulları,
 - II. Coğrafi konumu,
 - III. Göç yolları üzerinde bulunması
- özelliklerinden hangilerinin önemli bir yerleşim merkezi olmasında etkili olduğu söylenebilir?

- A) I ve II B) I ve III
C) II ve III D) I, II ve III

8.



Başlangıç meridyeninin doğusundaki yerlerin yerel saatleri, kendilerine göre batıda olan yerlerin yerel saatlerinden daha ileridir.

Buna göre, hangi merkezde yerel saatin en ileri olduğu söylenebilir?

- A) 1 B) 2 C) 3 D) 4

9.

Türkiye'nin matematik konumunun sonuçları arasında yer alır. Aşağıdakilerden hangisi Türkiye'nin matematik konumunun sonuçları arasında gösterilebilir?

- A) üç tarafının denizlerle çevrili olması
- B) üç kıtanın birbirine en çok yaklaştığı yerde yer alması
- C) dört mevsimin belirgin olarak görülmesi
- D) zengin petrol yataklarına sahip olan ülkelerle komşu olması

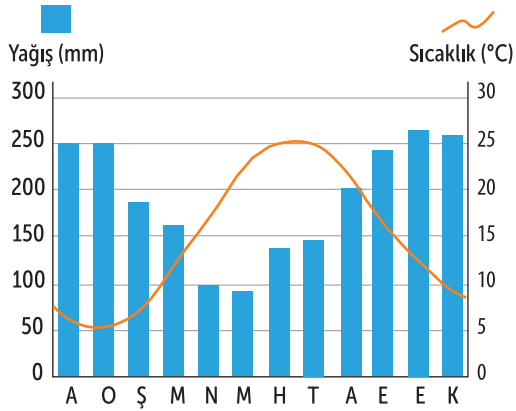
Ad / Soyad :

Sınıf / No :

ÇÖZ
BİTİR

TÜRKİYE'NİN FİZİKİ VE BEŞERÎ ÖZELLİKLERİ - I

1. Aşağıda Türkiye'deki bir merkeze ait sıcaklık ve yağış grafiği gösterilmiştir.



Bu grafiğe bakılarak bu merkez ile ilgili;

- Yağışın en fazla olduğu ay,
 - Sıcaklığın en düşük olduğu ay,
 - Sıcaklığın en yüksek olduğu gün
- özelliklerinden hangisine ya da hangilerine ulaşılabilir?

- A) Yalnız I B) Yalnız II
C) I ve II D) I, II ve III

2. Akdeniz iklim tipinde yazlar sıcak ve kurak, kışlar ılık ve yağışlıdır. Kar yağışlarına nadiren rastlanan iklim tipinde yıllık sıcaklık ortalaması 19 ile 20°C arasındadır.

Yukarıda verilen bilgiler Akdeniz iklimi ile ilgili aşağıdakilerden hangisini kanıtlar niteliktedir?

- A) Turizm faaliyetleri için uygun olmadığını
B) Ekonomik etkinliklerin geliştiğini
C) Yıllık sıcaklık ortalamalarının düşük olduğunu
D) Sıcaklık farklarının belirgin olmadığını

3. Aşağıda verilen haritada ülkemizde görülen iklim tiplerinin dağılışı gösterilmiştir.



Yukarıdaki haritadan yararlanarak aşağıdakilerden hangisi söylenebilir?

- A) Karasal iklimin etki alanı, Karadeniz ve Akdeniz iklimlerine göre daha fazladır.
B) Yağışların en fazla görüldüğü yerler ülkemizin güney kesimleridir.
C) Akdeniz ikliminin etki alanı batıdan doğuya gittikçe artar.
D) Karadeniz iklimi sadece Karadeniz Bölgesi'nde görülür.

4. Akdeniz ve Karadeniz bölgelerinde denizin ılımanlaştırıcı etkisi yalnızca dar bir kıyı şeridinde etkili olurken; Ege Bölgesi'nde deniz etkisi iç kesimlere kadar ulaşabilir.

Bu durumun temel nedeni aşağıdakilerden hangisidir?

- A) Toprak yapılarının farklı olması
B) Bitki örtüsünün çeşitlilik göstermesi
C) Yeryüzü şekillerinin engebeli olması
D) Dağların uzanış doğrultusunun farklı olması

5. Ülkemizde nedeniyle deniz etkisi iç kesimlere kadar ulaşamaz. Bu nedenle iç kesimlerde karasal; kıyı kesimlerde ise ılıman iklim özellikleri etkili olur.

Yukarıdaki ifadede boş bırakılan yere aşağıdakilerden hangisi getirilirse doğru olur?

- A) üç tarafın denizlerle çevrili olması
B) dağların kıyıya paralel uzanması
C) yükseltinin batıdan doğuya artması
D) dağları kuzey yamaçlarının fazla ısınması

6. Türkiye'nin nüfus haritası incelendiğinde nüfusun eşit bir şekilde dağılmadığı görülür. Anadolu'nun iç kesimlerindeki çoğu ilde nüfus az iken kıyı kesimlerde fazladır. Türkiye'nin doğal ve beşerî özellikleri bazı yerlerde değişim gösterdiği için nüfusun dağılışı da bu durumdan etkilenmiştir.

Yukarıda verilen bilgilere göre;

- I. Türkiye'de nüfusun dağılışının dengeli olmadığı,
II. Kıyı kesimlerdeki nüfusun iç kesimlere göre yoğun olduğu,
III. Nüfusun dağılışında en önemli unsurun doğal faktörler olduğu

yargılarından hangilerine ulaşılabilir?

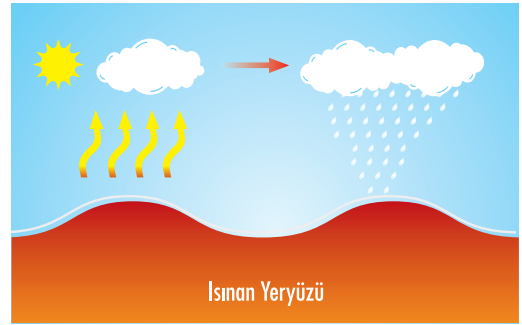
- A) I ve II
B) I ve III
C) II ve III
D) I, II ve III

7. Sosyal bilgiler dersinde öğretmen öğrencilerinden Murat'tan, ülkemizde etkili olan iklimlerin bitki örtülerinin hangileri olduğunu tahtaya çizdiği tablonun içine yazmasını istemiştir.

Buna göre, Murat tabloya aşağıdakilerden hangisini yazarsa öğretmenin sorduğu soruyu doğru cevaplamış olur?

	Karasal	Akdeniz	Karadeniz
A)	Bozkır	Orman	Maki
B)	Bozkır	Maki	Orman
C)	Maki	Orman	Bozkır
D)	Orman	Bozkır	Maki

- 8.

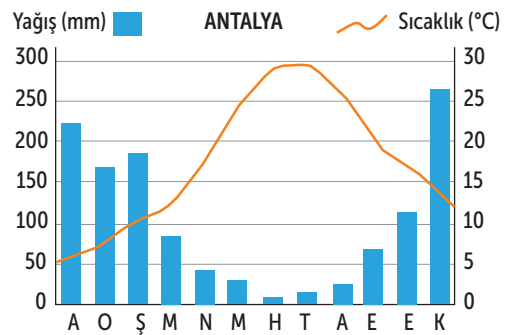


İlkbaharda yeryüzünün fazla ısınması sonucu oluşan sıcak hava kütlesi, yükselerek soğur ve yağış meydana getirir. Oluşan bu yağışlara konveksiyonel yağış denir.

Aşağıda verilen şehirlerden hangisinde bu tür yağışların görülme olasılığı daha azdır?

- A) Trabzon
B) Kayseri
C) Ankara
D) Konya

- 9.



Antalya'nın sıcaklık ve yağış miktarını gösteren yukarıdaki grafik dikkate alındığında, aşağıdakilerden hangisine ulaşamaz?

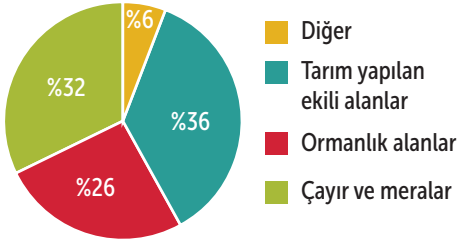
- A) Yağışın en az haziran ayında düştüğüne
B) Yağışın aylara göre dağılışının farklılık gösterdiğine
C) Sıcaklıkların yıl boyunca 20 °C'nin üzerinde olduğuna
D) Aralık ve ocak aylarında sıcaklıkların 15 °C'nin altında olduğuna

Ad / Soyad :

Sınıf / No :

ÜLKEMİZDE EKONOMİK FAALİYETLER - 4

1. Aşağıdaki grafikte Türkiye topraklarından yararlanma oranları verilmiştir.



Grafikteki bilgilere göre, aşağıdakilerden hangisine ulaşamaz?

- A) Türkiye topraklarının %26'sını ormanların oluşturduğuna
 B) Çayır ve meraların tarım yapılan alanlardan az olduğuna
 C) Ormanlık alanların kıydan iç kesimlere gildikçe arttığına
 D) Türkiye topraklarından farklı şekillerde yararlanıldığına

2.



Yukarıdaki görselleri verilen tarım ürünleri ile en fazla yetiştirildiği bölgeler hangi seçenekte doğru gruplandırılmıştır?

Muz	İncir	Ayçiçeği
A) Karadeniz	İç Anadolu	Ege
B) Akdeniz	Ege	Marmara
C) Ege	Akdeniz	İç Anadolu
D) İç Anadolu	Akdeniz	Marmara


3. Linyit ülkemiz için önemli bir enerji kaynağıdır. Kaliteli linyitler evlerde yakacak olarak kullanılır. Düşük kalorili linyitler ise termik santrallerde tüketilir. Bu nedenle termik santraller, büyük linyit yataklarının yakınında kurulmuştur. **Yukarıdaki bilgiler dikkate alındığında;**

- I. Linyitin ülkemizin bütün bölgelerinde bulunduğu,
 II. Linyitin yüksek kalorili olanlarının evlerde ısıtmada kullanıldığı,
 III. Linyitin termik santrallerde enerji kaynağı olarak kullanıldığı

yargılarından hangisine ya da hangilerine ulaşamaz?

- A) Yalnız I
 B) Yalnız II
 C) I ve II
 D) I ve III

4. Aşağıda görselleri verilen tarım ürünlerinden hangisi, dokuma sanayisinin ham maddesi olarak kabul edilmektedir?



5. Ormanların giderek yok olmasının nedenleri arasında;
- Orman yangınları,
 - Kaçak ağaç kesimi,
 - Kırık cam parçalarının ormana bırakılması,
 - Ormanlık alanların tarım ve yerleşim alanı olarak kullanılması
- durumlarından kaç tanesi yer alır?

A) 1 B) 2 C) 3 D) 4

6.

Tarım Ürünleri	T/B
Arpa	
Nohut	
Mercimek	
Çavdar	

Yukarıdaki tabloda tahılların bulunduğu kutucuklara T, baklagillerin bulunduğu kutucuklara ise B konulacaktır. Buna göre, doğru harflendirme hangi seçenekte belirtildiği gibi olmalıdır?

A)

T
B
B
T

 B)

B
B
T
B

 C)

T
B
T
B

 D)

T
T
B
B

7. Ülkemizde yalnızca Doğu Karadeniz Bölümü'nde ekim alanları bulunan çay, sıcaklığın yıl boyunca 0°C'nin altına düşmediği, yağışın bol olduğu yerlerde ve kireçsiz topraklarda yetiştirilen bir sanayi bitkisidir.

Bu bilgiler, çay tarım ürünü ile ilgili aşağıdakilerden hangisinin göstergesi değildir?

- A) Ekim alanının sınırlı olduğunun
B) Devlet denetiminde üretiminin yapıldığının
C) Düşük kış sıcaklıklarına dayanıksız olduğunun
D) Yağışın fazla olduğu yerlerde yetiştirildiğinin

8. İnsanların çeşitli ürünler elde etmek için toprağı işleme faaliyetlerine tarım adı verilir. Ülkemizde nüfusun yaklaşık yarısı geçimini tarımdan sağlamaktadır. Cumhuriyetin ilk yıllarından günümüze kadar olan süreçte tarımsal üretimimiz artmış, buna karşılık tarım sektörünün ekonomideki payı oransal olarak azalmıştır. Yukarıda verilen bilgilere dayanarak aşağıdakilerden hangisine ulaşamaz?

- A) Cumhuriyet döneminden itibaren tarımsal alanda üretimin arttığına
B) Tarım faaliyetlerinin ülkemizin ekonomisine katkı sağladığına
C) Ülkemizdeki geçimini tarımdan sağlayanların nüfusun yaklaşık yarısını oluşturduğuna
D) Günümüzde ekonomide tarım sektörünün payının arttığına

9.

Haşhaş Muz

Osman Ayça

Yulaf

Mete

Yukarıdaki öğrencilerden hangisinin ya da hangilerinin söylediği tarım ürünü ile ilgili, "Devlet kontrolünde yetiştirilir." ifadesi kullanılabilir?

- A) Yalnız Ayça'nın
B) Yalnız Osman'ın
C) Ayça ve Mete'nin
D) Osman, Ayça ve Mete'nin