

Ad / Soyad :

Sınıf / No :

ÇÖZ BİTİR

İnsan, Doğal Çevre, Coğrafyanın Konusu ve Bölümleri

1. Yeryüzünün dört doğal ortamından biri olan hidrosfer, Dünya'nın yaklaşık %71'lik kısmını oluşturmaktadır. **Buna göre, aşağıdakilerden hangisi hidrosferi oluşturan unsurlardan biridir?**

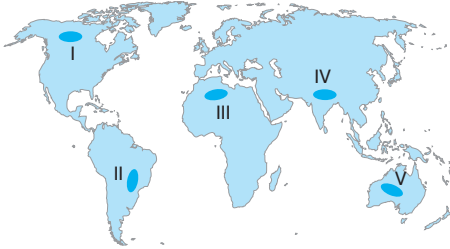
A) Akarsular B) Topraklar C) Kayaçlar
D) Hava kütleleri E) Dağlar

2. Oluşumunda veya ortaya çıkmasında insan etkisi olmayan unsurlara doğal unsur denir.

Buna göre, aşağıdakilerden hangisi doğal unsurlardan değildir?

A) Kanada'nın kuzey kesimlerindeki tayga ormanları
B) Ekvatorial iklim bölgelerindeki laterit toprakları
C) Güneydoğu Anadolu Bölgesi'ndeki baraj gölleri
D) Güneydoğu Asya'daki Himalaya Dağları
E) Akdeniz Bölgesi'ndeki Göller Yöresi

3. Doğal çevre koşulları insanların yaşam alanlarını ve yaşamsal tüm faaliyetlerini etkiler.



Buna göre, haritada taranarak numaralandırılmış bölgelerin hangisinde yaşamsal faaliyetler günlük ve engelleyen dolay sınırlıdır?

A) I B) II C) III D) IV E) V

4. Aşağıda coğrafyaya yardımcı bilim dallarından hangisinin karşısında verilen inceleme alanı yanlış verilmiştir?

A) Jeomorfoloji → Yer şekillerini inceler.
B) Limnoloji → Gölleri inceler.
C) Demografi → Nüfus yapısını inceler.
D) Botanik → Bitkileri inceler.
E) Klimatoloji → Depremlerin oluşumunu inceler.

5. • Japonya'da meydana gelen depremler
• Hindistan'da meydana gelen heyelanlar
• İzlanda'daki volkanik patlamalar

Yukarıda verilen olaylar aşağıdaki doğal ortamlardan hangisinde gerçekleşir?

A) Hidrosfer B) Litosfer C) Biyosfer
D) Atmosfer E) Barisfer

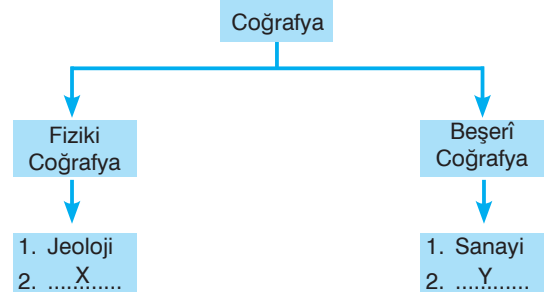
6. **Coğrafyanın nedensellik ilkesine;**

- I. Toplu yerleşmeler yarı kurak bölgelerde görülür.
II. Fay hattında bulunduğu için depremler meydana gelmektedir.
III. Yağışlı bir iklime sahip olmadığı için çay tarımı yapılamamaktadır.
IV. Bambudan yapılan evler genellikle Ekvatorial bölgede görülür.

cümlelerinden hangileri örnek verilebilir?

A) Yalnız I B) I ve II C) I ve IV
D) II ve III E) III ve IV

7. Aşağıdaki kavram haritasında fiziki ve beşerî coğrafyanın alt dalları gösterilmiştir.



Verilen kavram haritasındaki X ve Y yerlerine aşağıdakilerden hangisi getirilemez?

	X	Y
A)	Jeofizik	Ulaşım
B)	Pedoloji	Turizm
C)	Oseonografya	Yerleşme
D)	Siyasi	Astronomi
E)	Hidroloji	Nüfus

8. Dünya'nın çeşitli bölgelerinde bulunan insanların beslenme, giyinme ve barınma şekillerinde büyük farklılıklar görülür.



Bu farklılıkların görülmesinde;

- 
- 

- Su kaynakları
- Bitki örtüsü

gibi doğal unsurlar etkili olmuştur.

Yukarıdaki maddelerde boş bırakılan  ve  yerlerine aşağıdakilerden hangileri getirilebilir?

	
A) Sanayi	Tarım
B) İklim	Yer şekilleri
C) Yer şekilleri	Turizm
D) Turizm	Sanayi
E) Maden	Ticaret

9. 1611 - 1682 yılları arasında yaşamış ünlü bir seyyah olan, Seyahatname adlı eserinde gezip gördüğü yerlerin sosyal ve ekonomik durumunu, ilgi çekici özellikleriyle dile getirmiştir. Kent yaşamı ve ülke ekonomisine katkı sağlayan unsurları ayrıntılı bir biçimde anlatmıştır.

Yukarıda coğrafyaya katkı sağlamış olan bilim insanının eseriyle ilgili bazı bilgiler verilmiştir.

Buna göre, boş bırakılan yere aşağıdaki bilim insanlarından hangisi getirilmelidir?

- A) Muhammed İdrisî
- B) Pîrî Reis
- C) Evliya Çelebi
- D) Biruni
- E) Kaşgarlı Mahmut


10. Aşağıdakilerden hangisi doğal çevrenin insan yaşayışı üzerindeki etkisine örnek verilemez?

- A) Mısır'da insanların ince elbiseler giymesi
- B) Eskimoların daha çok balıkla beslenmesi
- C) Japonya'da denizin doldurularak toprak kazanılması
- D) Sibiry'a'da kış mevsiminde doğal gaz tüketiminin artması
- E) İsviçre Alpleri'nde kış turizminin gelişmiş olması

11. Doğal unsurlar insan yaşamını olumlu ve olumsuz yönde etkileyebilmektedir.

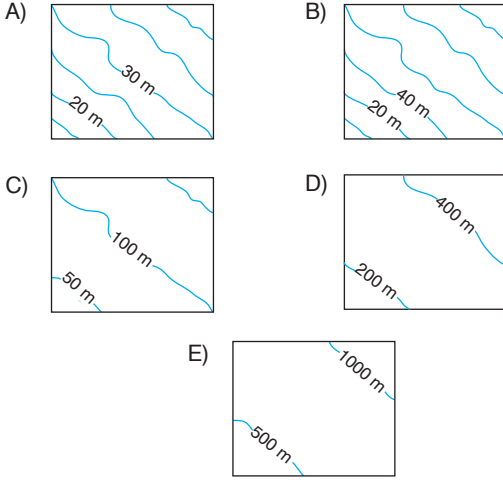
Buna göre, aşağıdakilerden hangisi doğal ortamın insanlar üzerindeki olumlu etkileri arasında sayılabilir?

- A) Dağlık ve engebeli alanlarda nüfus yoğunluğunun az olması
- B) Kuraklığın belirgin olduğu bölgelerde tarım yapmanın kısıtlı olması
- C) Dağların geniş alan kapladığı alanlarda ulaşım olanaklarının yetersiz olması
- D) Akarsuların hızlı aktığı bölgelerde rafting gibi su sporlarının yapılması
- E) Kutba yakın yerlerde ısınma giderinin fazla olması



Haritalarda Yeryüzü Şekillerinin Gösterilmesi

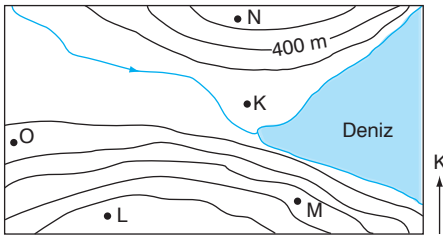
1. Aşağıda verilen haritalardan hangisinin ölçeği daha büyüktür?



2. İzohips yöntemiyle yapılmış bir topoğrafya haritasında çizgilerin seyrek geçtiği yerler arasında aşağıdakilerden hangisi yer alır?

- A) Dik kıyılar
B) Vadi yamaçları
C) Delta ovaları
D) Dağlık alanlar
E) Falez alanları

3. Aşağıda izohips yöntemiyle yapılmış haritada beş farklı bölge gösterilmiştir.



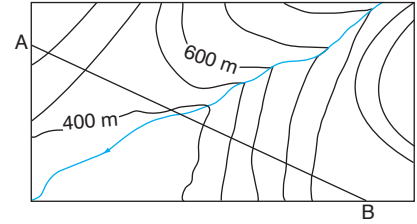
Verilen haritadaki merkezler renklendirme yöntemiyle gösterilmiş olsaydı, aşağıdaki renklerden hangisi yanlış olurdu?

- A) K ⇒ Yeşil
B) L ⇒ Turuncu
C) M ⇒ Sarı
D) N ⇒ Kahverengi
E) O ⇒ Yeşil

4. • Tarama yönteminde fazla olduğu yerlerde tarama çizgileri sık, kısa ve kalındır.
• Gölgeleme yönteminde, gölgede kalan yerler tonlarla gösterilir.
• Gerçeğe en yakın harita yöntemidir.
Harita yöntemleriyle ilgili verilen maddelerdeki ■, ▲ ve ● yerlerine aşağıdakilerden hangileri getirilebilir?

■	▲	●
A) yükseltinin	açık	kabartma
B) yükseltinin	koyu	izohips
C) eğimin	koyu	kabartma
D) eğimin	açık	renklendirme
E) yükseltinin	koyu	izohips

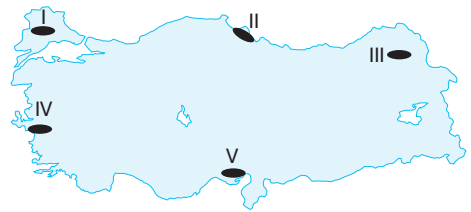
- 5.



Yukarıda verilen topoğrafya haritasındaki A – B doğrultusunda aşağıdaki yükselti değerlerinden hangisi bulunamaz?

- A) 370 B) 550 C) 680 D) 820 E) 900

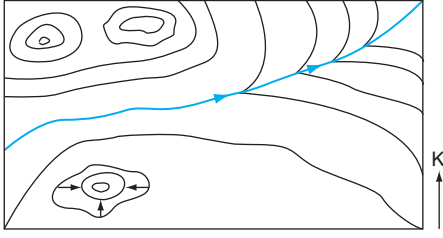
- 6.



Yukarıdaki Türkiye fiziki haritasında verilen taralı bölgelerin hangisinde kahverengi tonları daha fazla kullanılır?

- A) I B) II C) III D) IV E) V

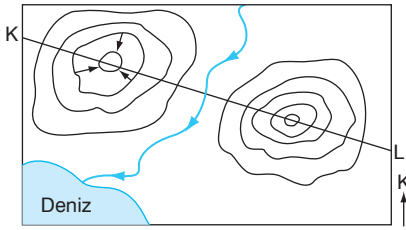
7.



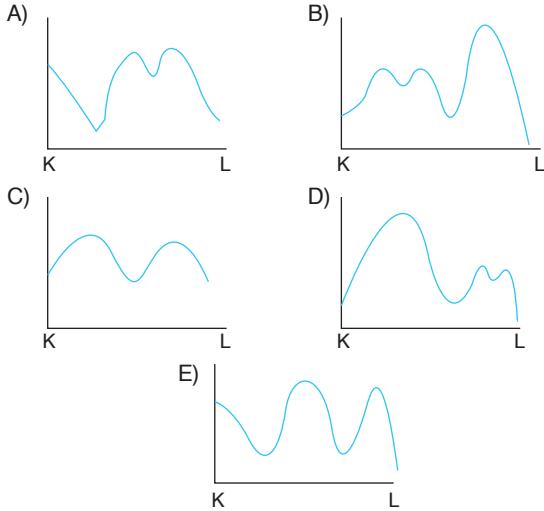
Yukarıdaki izohips haritasında aşağıdaki yer şekillerinden hangisi yoktur?

- A) Boyun B) Delta C) Tepe
D) Vadi E) Kapalı çukur

8.



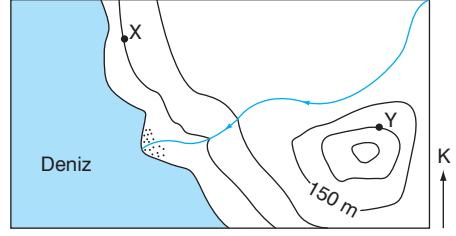
Yukarıdaki izohips haritasında gösterilen K - L doğrultusunun profili aşağıdakilerden hangisidir?



9. Aynı bölgenin iki farklı izohips haritasında izohips eğri sayılarının aynı olmaması aşağıdakilerden hangisiyle açıklanabilir?

- A) Yükselti değerleriyle
B) Dik yamaçların az olmasıyla
C) Arazinin dağlık olmasıyla
D) Küçültme oranlarıyla
E) Coğrafi koordinatlarıyla

10. Aşağıda bir bölgenin izohips yöntemiyle gösterilmiş topoğrafya haritası verilmiştir.

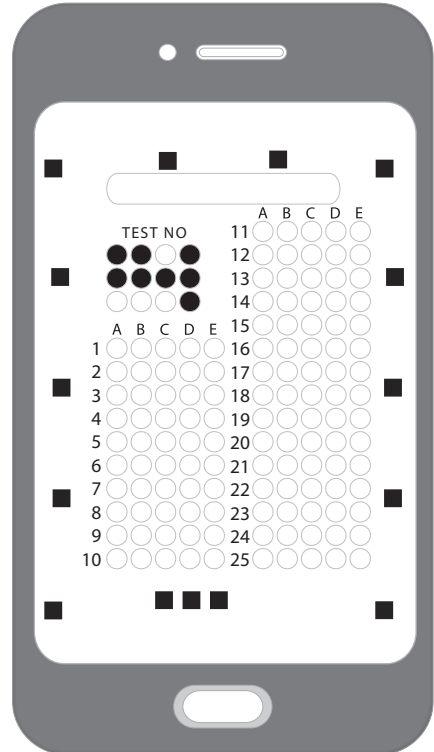


Buna göre, topoğrafya haritasında gösterilen X ve Y noktaları arasındaki yükselti farkı kaç metredir?

- A) 50 B) 100 C) 150 D) 200 E) 250

11. Aşağıda verilen ovalardan hangisinin renklendirme yöntemiyle haritası yapıldığında yeşil ve tonları kullanılmaz?

- A) Çukurova
B) Bafra
C) Gediz
D) Silifke
E) Yüksekova



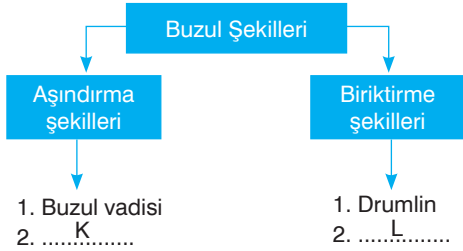
Dış Kuvvetler ve Türkiye'nin Yer Şekilleri

1. Türkiye uzun kıyı şeridine sahip bir ülkedir. Bu nedenle dalga ve akıntılarının faaliyetleri sonucu oluşan yer şekilleri görülmektedir. Özellikle dağların kıyıya paralel uzandığı kıyılarda dalgalar biriktirme, dik uzandığı kıyılarda ise aşındırma şekilleri daha fazla görülür. Örneğin Doğu Karadeniz'de falezler yaygınken, Batı Anadolu'da ve Marmara Denizi kıyılarında lagün, tombolo gibi şekiller yaygındır.

Türkiye'de dalga ve akıntılarla ilgili olarak verilen bilgilerin hangisinde bir hata yapılmıştır?

- A) Türkiye'nin uzun kıyı şeridine sahip olduğunda
B) Türkiye'de dalga ve akıntılarının oluşturduğu yer şekillerinin görülmesinde
C) Dağların kıyıya paralel uzandığı bölgelerde biriktirme şekillerinin görüldüğünde
D) Doğu Karadeniz kıyılarında falezlerin olduğunda
E) Marmara Denizi kıyılarında lagünlerin görüldüğünde

2. Aşağıdaki kavram haritasında buzul aşındırma ve biriktirme şekilleri gösterilmiştir.



Kavram haritasında boş bırakılan K ve L yerlerine aşağıdakilerden hangileri getirilebilir?

- | K | L |
|-------------------|-------------|
| A) Moren | Sirk çukuru |
| B) Lapyta | Uvala |
| C) Hörgüç kaya | Moren |
| D) Polye | Obruk |
| E) Sander düzlüğü | Fiyort |

3. • Karain Mağarası
• Korkuteli Polyesi
• Pamukkale Travertenleri

Yukarıda verilen yer şekillerinin ortak özelliği aşağıdakilerden hangisidir?

- A) Akarsu biriktirmesi sonucu oluşmaları
B) Aynı coğrafi bölgede bulunmaları
C) Dağlık alanlarda görülmeleri
D) Karstik şekiller olmaları
E) Volkanizma sonucu oluşmaları

4. **Ülkemizin dağlık ve engebeli bir ülke olmasının olumlu sonuçları arasında;**

- I. kış turizm potansiyeli,
II. hidroelektrik potansiyel,
III. ulaşım ağı,
IV. sanayi

faaliyetlerinden hangileri yer alır?

- A) I ve II
B) I ve IV
C) II ve III
D) III ve IV
E) I, II ve IV

5. I. Buzul aşındırması sonucu oluşan kıyı tipi
II. Mağara tavanlarının çökmesiyle oluşan çukur
III. Dalga biriktirmesi sonucu eski körfezin göl hâline gelmesi

Yukarıda dış kuvvetler sonucu oluşan bazı yer şekillerinin açıklamaları verilmiştir.

Buna göre, verilen yer şekilleri aşağıdakilerden hangisinde doğru eşleştirilmiştir?

A) I	Sarkıt	B) I	Falez
II	Düden	II	Uvala
III	Dalmaçya	III	Drumlin

C) I	Falez	D) I	Haliç
II	Sirk	II	Skyer
III	Tombolo	III	Dolin

E) I	Fiyort
II	Obruk
III	Lagün

6. Bir grup coğrafyacı Doğu Karadeniz'de araştırma yapmış ve bölgenin özellikleriyle ilgili şu saptamalarda bulunmuştur:

- I. Dalga aşındırması fazladır.
- II. Kıyılarda falezlere sıkça rastlanır.
- III. Kıyı ile iç kesimler arasında ulaşım zordur.
- IV. Bakır madeni bulunur.

Bu özelliklerden hangileri bölgede dağların kıyıya paralel uzanmasıyla açıklanabilir?

- A) Yalnız I B) Yalnız IV C) II ve III
D) III ve IV E) I, II ve III

7. Aşağıdakilerden hangisi diğer dördünün nedeni olarak gösterilebilir?

- A) Akarsu aşındırmasının fazla olması
- B) Kara yolu yapım maliyetinin yüksek olması
- C) Kış yağışlarının kar şeklinde olması
- D) Kısa mesafelerde sıcaklık ve yağış koşullarının değişmesi
- E) Yükselti ve engebenin fazla olması

8. Dağların kıyıya paralel uzandığı kıyılarda, deniz seviyesinin yükselmesi sonucu dağlar arasındaki vadilerin sular altında kalmasıyla oluşan kıyılardır.

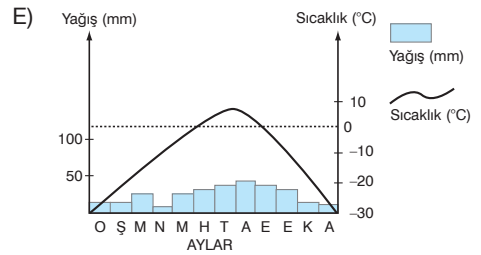
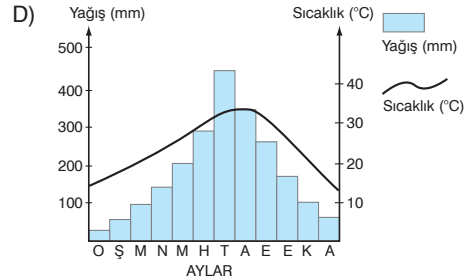
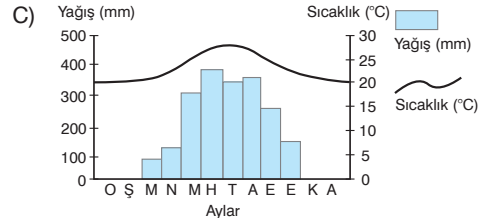
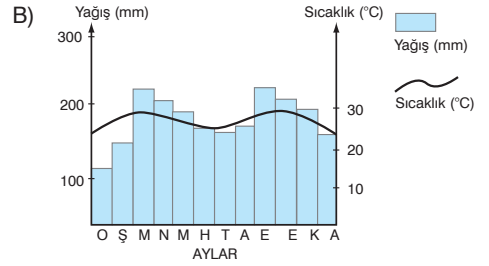
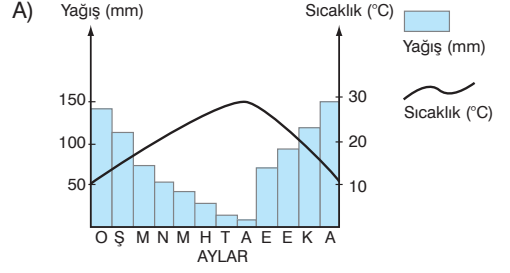
Yukarıda açıklaması yapılan kıyı tipi aşağıdakilerden hangisidir?

- A) Dalmaçya kıyı tipi B) Boyuna kıyı tipi
C) Enine kıyı tipi D) Ria kıyı tipi
E) Limanlı kıyı

9. Bir kıyıda gelgit ve güçlü akıntılar varsa aşağıdakilerden hangi ikisinin oluşması beklenmez?

- A) Falez – fiyort B) Skyer – falez
C) Haliç – delta D) Delta – tombolo
E) Tombolo – haliç

10. Aşağıda yıllık sıcaklık ve yağış grafikleri verilen bölgelerin hangisinde örtü buzulunun görülme ihtimali daha fazladır?



Ad / Soyad :

Sınıf / No :

ÇÖZ GETİR

Yerleşme, Nüfus ve Göçler

1. Aşağıdaki Dünya haritasında beş farklı bölge gösterilmiştir.



Haritada verilen bölgelerin hangisinde doğum oranları daha yüksektir?

- A) I B) II C) III D) IV E) V

2. Geçimini tarım ve mera hayvancılığı ile sağlayan bir ailenin yaz döneminde hayvanlarını otlatılabilmek için aşağıdaki yerleşmelerin hangisine gitmesi daha uygun olur?

- A) Köy
B) Kasaba
C) Yayla
D) Orman içi yerleşim
E) Sürekli kırsal yerleşim

3. Bir ülkedeki doğum oranları üzerinde birçok faktör etkili olmaktadır.

Buna göre aşağıdakilerden hangisinin artması nüfus artış hızının azalmasına neden olmaz?

- A) Evlenme yaşının
B) Eğitim düzeyinin
C) Doğal afetlerin
D) Nüfus planlama baskısının
E) Sağlıkteki teknolojik gelişmelerin

- 4.

X yerleşkesi	Y yerleşkesi
Genellikle ekonomik olarak tek fonksiyonludur. İdari olarak en küçük yerleşim yer kabul edilir.	Fonksiyonel çeşitliliği fazladır. Eğitim ve sağlık başta olmak üzere kültürel, ekonomik faaliyetler en üst düzeyde yürütülür.

Yukarıda X ve Y yerleşkesine ait özellikler verilmiştir.

Verilen özelliklere bakıldığında X ve Y yerleşim yerleri aşağıdakilerden hangisi olabilir?

	X	Y
A)	Köy altı	Kasaba
B)	Köy	Kent
C)	Köy altı	Kent
D)	Köy	Kasaba
E)	Köy altı	Büyükşehir

5. Ülkemizde ilk nüfus sayımı 1927 yılında yapılmış olup yaklaşık nüfus miktarı 13.6 milyon çıkmıştır. 1927'den 2018 yılına kadar bu miktar devamlı artmıştır. Ancak bazı yıllarda nüfus artış hızı azalmıştır. Örneğin ____ - ____ yılları arasında seferberlik hâlinin çıkması nedeniyle nüfus artış hızımız azalmıştır.

Yukarıdaki parçada boş bırakılan yerlere aşağıdaki tarihlerden hangileri getirilmelidir?

- A) 1920-1925 B) 1935-1940 C) 1940-1945
D) 1950-1955 E) 1960-1965

6.



Göç alan kentlerde erkek, göç veren kentlerde ise kadın nüfus oranı daha fazladır.

Buna göre, haritada verilen noktaların hangilerinde erkek, hangilerinde kadın nüfusun daha fazla olması beklenir?

	Erkek	Kadın
A)	I – II	III – IV
B)	I – III	II – IV
C)	II – III	I – IV
D)	III – IV	I – II
E)	II – IV	I – III

7. Geçmişten günümüze Dünya nüfusu artış süresince üç sıçrama dönemi yaşamıştır. Bu dönemlerden biri de Sanayi Devrimi'yle beraber olan sıçramadır.

Buna göre, Sanayi Devrimi'yle beraber aşağıdaki kıtaların hangisinde daha hızlı bir nüfus artışı yaşanmıştır?

- A) Güney Amerika B) Afrika
C) Kuzey Amerika D) Avrupa
E) Avustralya

8. Bir X yerleşim yerinde kısa zaman içinde nüfus miktarı iki katına çıkıyorsa, bu yerleşim yeri için aşağıdakilerden hangisi söylenebilir?

- A) Ölüm oranları artmıştır.
B) Yoğun olarak göç almıştır.
C) Ormanlık gelişmiştir.
D) İklim koşulları iyileşmiştir.
E) Göç vermiştir.

9. Aşağıda üç kişinin durumuyla ilgili anlattıkları verilmiştir.
- Dedemin babası Üsküp'ten gelmişler. 1920'li yıllarda devlet adamları tarafından Edirne'ye yerleştirilmiş.
 - Şu anda Kanada'da yaşamaktayım. İstanbul'da Genetik Mühendisliği bölümünü bitirdikten sonra daha geniş çalışma alanı bulabilmek için buraya yerleştim.
 - 1960'lı yıllarda babam Hamburg'a gelmiş. Burada fabrikada işçi olarak çalışmaya başlamış.
- Yukarıda anlatılan durumları göç türlerine göre eşleştirdiğimizde aşağıdakilerden hangisi doğru olur?**

	I	II	III
A)	Mübadele	Beyin göçü	İşçi göçü
B)	İşçi göçü	Afet göçü	İşçi göçü
C)	Beyin göçü	Mübadele	Mülteci göçü
D)	Mülteci göçü	İşçi göçü	Beyin göçü
E)	Mübadele	Mülteci göçü	Afet göçü

10. Aşağıda beş farklı merkezin bulunduğu enlem derecesi ve yıllık ortalama sıcaklığı verilmiştir.

Merkezler	Enlem derecesi	Yıllık sıcaklık ortalaması
I	40°G	14°C
II	0°	27°C
III	5°G	25°C
IV	38°K	12°C
V	60°G	8°C

Bu merkezlerin hangilerinde yükseltinin artması nüfus dağılışında olumlu etki yapar?

- A) I ve II B) I ve IV C) II ve III
D) III ve V E) IV ve V

11. • Almanya'da Essen
• Rusya'da St. Petersburg
• Türkiye'de -----
• ABD'de -----

Yukarıda bazı ülkelere ait sanayi şehirleri verilmiştir.

Buna göre, Türkiye'de ve ABD'de yer alabilecek bu kentler arasında aşağıdakilerden hangileri olabilir?

	Türkiye'de	ABD'de
A)	Kocaeli	New York
B)	İstanbul	Londra
C)	Bursa	Amsterdam
D)	Çankırı	Washington
E)	İzmir	Hamburg

12. A ülkesinde; nüfus dengesiz dağılmakta ve doğal şartlardan etkilenmektedir.

B ülkesinde; kentsel nüfus oranı hem fazla hem de nüfus doğal koşullardan pek etkilenmemektedir.

Buna göre, A ve B ülkesi aşağıdaki özelliklerden hangisi bakımından kesinlikle farklıdır?

- A) Nüfus miktarları
B) Yüz ölçümleri
C) Genç nüfus miktarı
D) İklim koşulları
E) Gelişmişlik seviyeleri

13. Dünya nüfusu 1 milyara ancak 1804 yılında ulaşmıştır. 2 milyara ise 1927 yılında ulaştığı görülmektedir. Günümüze geldiğimizde artık dünya nüfusu 7,5 milyarı geçmiştir.

Buna göre, Dünya nüfusunun son yüzyıl içinde bu kadar artış yaşamasının nedenleri arasında aşağıdakilerden hangisi yer almaz?

- A) Ölüm oranlarının azalması
B) Hayat standardının yükselmesi
C) Bebek ölüm oranlarının azalması
D) Dış göçlerin azalması
E) Sağlık alanında gelişmelerin yaşanması

14. Aşağıdaki tabloda bir ülkedeki çalışanların ekonomik faaliyet kollarına göre sayıları verilmiştir.

Faaliyet kolu	Kişi sayısı (000)
Tarım	6000
Tekstil sanayi	2400
Gıda sanayi	600
Eğitim	800
Hukuk	600
Madencilik	2000
Ulaşım	100

Tablodaki bilgilere göre, bu ülkenin ekonomik faaliyet kollarına dağılımı aşağıdakilerden hangisi olabilir?

A)

	(%)
Birincil	30
İkincil	50
Üçüncül	20

B)

	(%)
Birincil	42
İkincil	38
Üçüncül	20

C)

	(%)
Birincil	64
İkincil	24
Üçüncül	12

D)

	(%)
Birincil	80
İkincil	10
Üçüncül	10

E)

	(%)
Birincil	50
İkincil	35
Üçüncül	15

15. Ülkemizde nüfus sayımlarının yapılma nedenleri arasında;

- I. genç nüfus oranını bilmek,
II. kırsal – kent nüfus oranını tespit etmek,
III. ülke yüz ölçümünü bulmak,
IV. demografik yatırımları planlamak

hangileri yer alır?

- A) Yalnız I
B) Yalnız IV
C) I ve II
D) II ve IV
E) I, II ve IV

16. Aşağıda göç alan ve göç veren yerlerdeki mekânsal etkilerden hangisi yanlıştır?

- A) İstanbul Göç alır. Trafik sorunu yaşanır.
 B) Ardahan Göç verir. Topraklar boş kalır.
 C) İzmir Göç alır. Çarpık yapılaşma görülür.
 D) Gaziantep Göç verir. İşsizlik oranı artar.
 E) Siirt Göç verir. Kamu binaları kapanır.

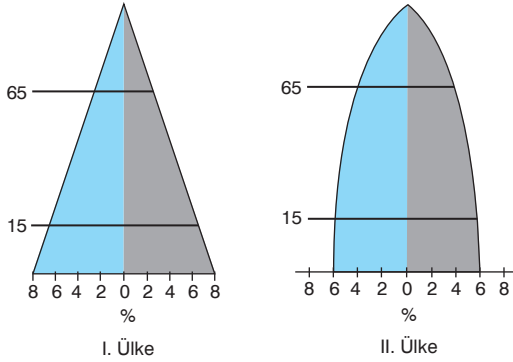
17. Türkiye’de nüfusun seyrek olduğu yerler arasında;

- I. Menteşe Yöresi,
 II. Adana Bölümü,
 III. Tuz Gölü Çevresi,
 IV. Çatalca – Kocaeli Platosu

hangileri yer alır?

- A) I ve II B) I ve III C) II ve III
 D) II ve IV E) III ve IV

18.



Yukarıda nüfus grafiği verilen iki ülke ile ilgili olarak aşağıdakilerden hangisinin kesin farklı olduğu söylenemez?

- A) Doğum ve ölüm oranlarının
 B) Kır nüfus miktarının
 C) İthal ve ihraç ürünlerinin
 D) Okuma – yazma oranının
 E) Beslenme ve sağlık şartlarının

19. I. Sanayi faaliyetlerinin artması
 II. Yüz ölçümünün değişmesi
 III. Eğitim hizmetlerinin gelişmesi
 IV. İklim koşullarının değişmesi

Günümüzde bir şehrin gelişip büyümesinde yukarıda verilenlerden hangilerinin etkisi daha fazladır?

- A) I ve II B) I ve III C) II ve IV
 D) III ve IV E) II ve III

20. Aşağıdakilerden hangisi yerleşmeyi sınırlayan doğal faktörlerden biri değildir?

- A) Okyanuslar ve denizler
 B) Sıcak çatışma bölgeleri
 C) Bataklıklar
 D) Olumsuz iklim koşulları
 E) Dağlık ve engebeli alanlar

